





7) დასასრულს, სთხოვეთ ბავშვებს დაასახელონ, თუ რომელ ვალუტას აქვს ლართან მიმართებაში ყველაზე მაღალი ან დაბალი ღირებულება? სხვა სიტყვებით, რომელი მათგანით შეიძლება ყველაზე მეტი ან ნაკლები ლარის ყიდვას? სთხოვეთ მოიფიქრონ, თუ რა ფორმით შეიძლება აისახოს მათ ცხოვრებაზე ლარის კურსის ცვლილება (მაგ., უცხოეთში მოგზაურობასთან მიმართებაში)?

დანართი: ქვეყნებისა და ვალუტების სასწავლო ბარათები

<p>ქვეყნის ბარათი A</p> <p>საქართველო</p> 	<p>ვალუტის ბარათი A</p> <p>ლარი / GEL</p> 
<p>ქვეყნის ბარათი B</p> <p>ევროზონა – ევროკავშირის 19 ქვეყანა</p> 	<p>ვალუტის ბარათი B</p> <p>ევრო / EUR</p> 

ქვეყნის ბარათი C

ჩინეთი



ვალუტის ბარათი C

იუანი / CNY



ქვეყნის ბარათი D

იაპონია



ვალუტის ბარათი D

იენი / JPY



ქვეყნის ბარათი E

ამერიკის შეერთებული შტატები (აშშ)



ვალუტის ბარათი E

დოლარი / USD



ქვეყნის ბარათი F

სომხეთი



ვალუტის ბარათი F

დრამი / MDL



ქვეყნის ბარათი G

აზერბაიჯანი



ვალუტის ბარათი G

მანათი / MKD



ქვეყნის ბარათი H

დიდი ბრიტანეთი



ვალუტის ბარათი H

ფუნტი / GBP



ქვეყნის ბარათი I

თურქეთი




ვალუტის ბარათი I

ლირა / TRY



ქვეყნის ბარათი J

შვეიცარია



ვალუტის ბარათი J

ფრანკი / CHF



ქვეყნის ბარათი K

ჩეხეთი



ვალუტის ბარათი K

კრონა / CZK

